

24 АПРЕЛЯ 2023 Г.



Математика.

1 класс

Теремок



8 16 7 12 15 9 11 14 6 5 19

Р И К Л Н Е П Е А З Е

Закрепление темы

"Нумерация чисел от 1 до 20"



ОТГАДАЙТЕ ЗАГАДКУ

**На косу она похожа,
Но косить траву не может-
Не наточена совсем
И не косит цифра ...**

**На косу она похожа,
Но косить траву не может-
Не наточена совсем
И не косит цифра ...**





Теремок





СОБЛЮДАЙ ЧИСТОТУ!





ПРАВИЛЬНО ПИТАЙСЯ!





AudioSkazki.info

БОЛЬШЕ ДВИГАЙСЯ!





AudioSkazki.info

**НА КЛУМБЕ БЫЛО 15 ТЮЛЬПАНОВ. ДЛЯ
БУКЕТА СРЕЗАЛИ 5 ТЮЛЬПАНОВ.
СКОЛЬКО ТЮЛЬПАНОВ ОСТАЛОСЬ НА КЛУМБЕ?**



НЕ ЗАВОДИ ВРЕДНЫХ ПРИВЫЧЕК!





$10+7 =$

$17-10 =$

$19-9 =$

$6+4+3 =$

$10+8 =$

$14 - 4 - 5 =$

$8+2+4 =$

$4+2-1 =$

$16-10 =$

$15-5 =$



$$10+7 = 17$$

$$17-10 = 7$$

$$19-9 = 10$$

$$6+4+3 = 13$$

$$10+8 = 18$$

$$14 - 4 - 5 = 5$$

$$8+2+4 = 14$$

$$4+2-1 = 5$$

$$16-10 = 6$$

$$15-5 = 10$$



ЖИВИ С ХОРОШИМ НАСТРОЕНИЕМ!







AudioSkazki.info



AudioSkazkinfo







Рефлексия



- На уроке мне было трудно



- На уроке я работал неплохо



- Я доволен своей работой на уроке

«СПАСИБО ЗА ВНИМАНИЕ!»
